

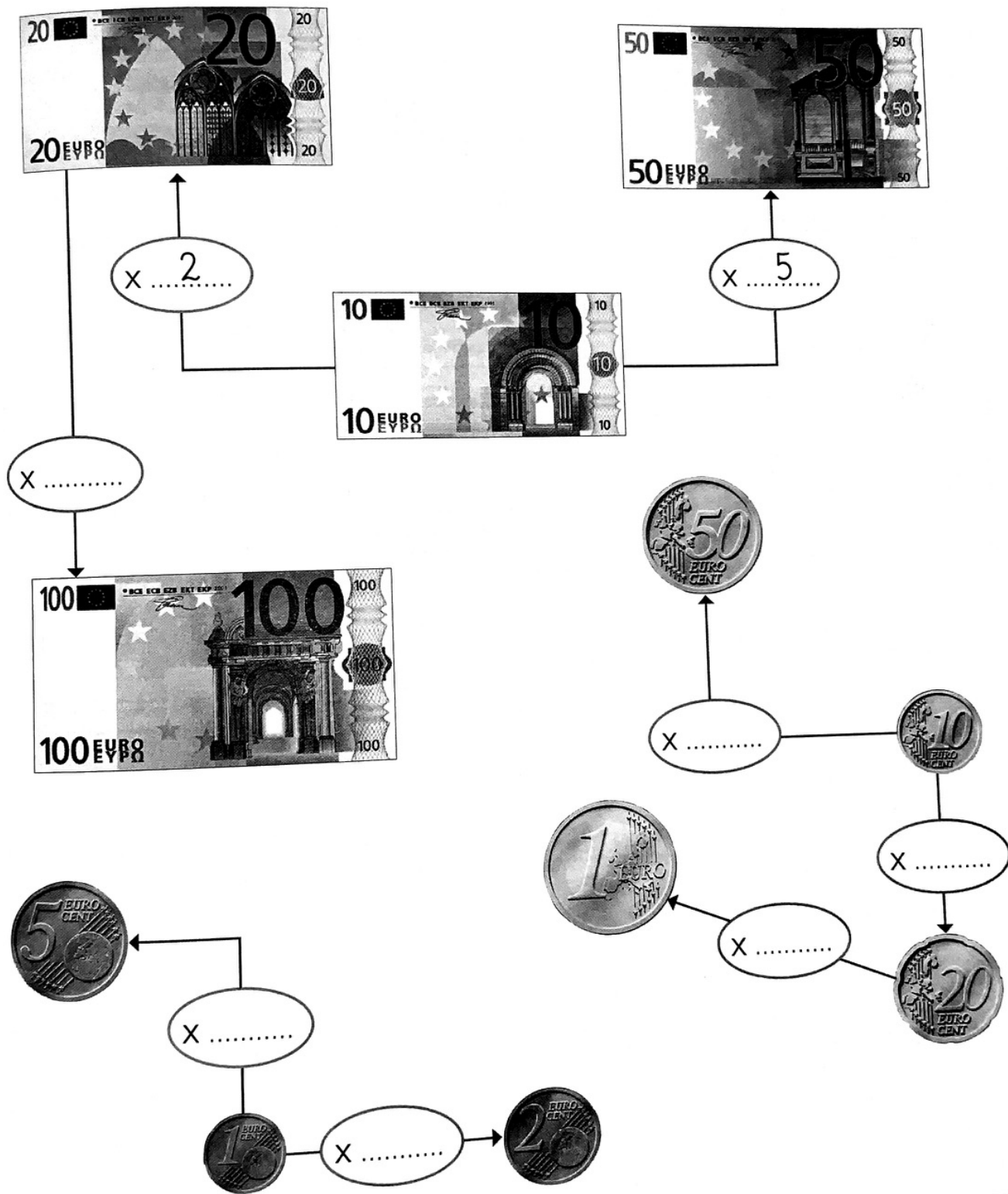


SCHEDA DI LAVORO 10

FACILE

Tagli diversi



 ¹/₃ ²  Osserva come si presentano i tagli di banconote e completa le relazioni con gli operatori giusti. Segui l'esempio.

















Nome Classe

SCHEDA DI LAVORO 11 **FACILE**



Valori equivalenti

 $\frac{1}{3}^2$  Completa lo schema seguente, che ti aiuta a conoscere l'euro.

PER FARE...	CI VOGLIONO...
	<div style="display: flex; justify-content: space-around; align-items: center;"> <div style="border: 1px solid black; border-radius: 15px; width: 60px; height: 60px; display: flex; align-items: center; justify-content: center; font-size: 24px;">20</div>  </div>
	<div style="display: flex; justify-content: space-around; align-items: center;"> <div style="border: 1px solid black; border-radius: 15px; width: 60px; height: 60px;"></div>  </div>
	<div style="display: flex; justify-content: space-around; align-items: center;"> <div style="border: 1px solid black; border-radius: 15px; width: 60px; height: 60px;"></div>  </div>
	<div style="display: flex; justify-content: space-around; align-items: center;"> <div style="border: 1px solid black; border-radius: 15px; width: 60px; height: 60px;"></div>  </div>
	<div style="display: flex; justify-content: space-around; align-items: center;"> <div style="border: 1px solid black; border-radius: 15px; width: 60px; height: 60px;"></div>  </div>
	<div style="display: flex; justify-content: space-around; align-items: center;"> <div style="border: 1px solid black; border-radius: 15px; width: 60px; height: 60px;"></div>  </div>
	<div style="display: flex; justify-content: space-around; align-items: center;"> <div style="border: 1px solid black; border-radius: 15px; width: 60px; height: 60px;"></div>  </div>

SCHEDA DI LAVORO (15) **MEDIA**

Equivalenze di tempo

 $\frac{1}{3}^2$  Completa le tabelle. Effettua i calcoli sul quaderno quando necessario.


EQUIVALE A...	MESI	SETTIMANE
45 giorni	1 mese e mezzo	6 settimane
14 giorni
1 anno e mezzo
90 giorni
7 giorni
2 anni



EQUIVALE A...	GIORNI	ORE	MINUTI
2 settimane
5 settimane
1 mese
1 mese e mezzo
3 mesi
1 settimana
2 mesi


SCHEDA DI LAVORO (16)



FACILE

Che ore sono?

  Disegna le lancette agli orologi secondo l'ora indicata nei riquadri.





  Scrivi l'ora esatta sotto ogni orologio disegnato.



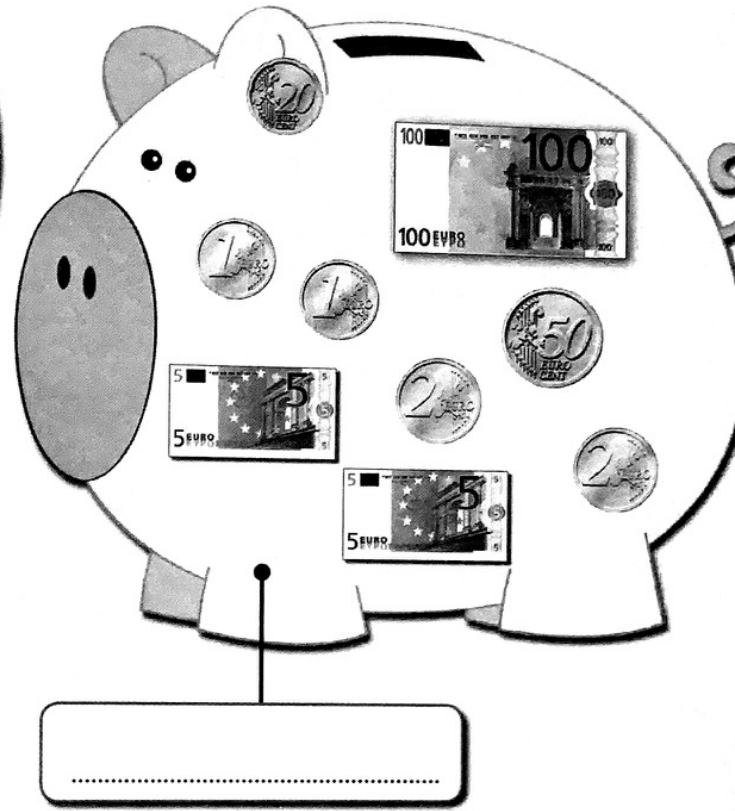



 $\frac{1}{3}^2$  Completa le frasi.

- ◆ Sono le 11:00. Saranno le 16:00 fra ore.
- ◆ Sono le 3:15. Fra 5 ore saranno le
- ◆ Sono le 13:35. Fra 5 ore e 20 minuti saranno le
- ◆ Sono le 20:00. Fra 7 ore saranno le
- ◆ Sono le 22:00. Fra 7 ore e 60 minuti saranno le
- ◆ Sono le 7:20. Fra 7 ore saranno le
- ◆ Sono le 22:10. Fra 4 ore saranno le
- ◆ Sono le 23:15. Fra 8 ore e 30 minuti saranno le

I salvadanai

 $\frac{1}{3}$ $\frac{2}{2}$  Scrivi quanti euro contiene ogni salvadanaio. Usa i numeri decimali.



Nome

Valutazione