


VERIFICA

L'alunno effettua equivalenze tra le misure del tempo e legge correttamente l'orologio.






Tempo... da scrivere e leggere

 Completa la tabella eseguendo le equivalenze.

EQUIVALE A...	MESI	SETTIMANE	ORE
180 giorni	6	24	4320
90 giorni			
14 giorni			

EQUIVALE A...	ORE	MINUTI	SECONDI
1 giorno			
3 giorni			
7 giorni			

 Indica che ore sono.



Nome

Valutazione

Problemi (repertorio)

In questa unità didattica vengono proposti una raccolta di testi di problemi raggruppati per argomenti.

I testi possono essere usati come verifiche periodiche dei concetti matematici proposti o come materiale di supporto da schematizzare o da elaborare ogni qualvolta vengono presentati nuovi argomenti.

Problemi aritmetici con le quattro operazioni

✓ Un agricoltore ha raccolto 65 kg di uva. • Se da 1 kg di uva si ricavano 6 l di vino, quanto vino ricaverà l'agricoltore da tutta l'uva?



✓ Un camion carico di bevande trasporta 170 cartoni di birra, 150 di gassosa e 80 di aranciata. • Se ogni cartone pesa 18 kg, quale sarà il peso di tutti i cartoni?

✓ Un operaio metalmeccanico lavora 6 ore al giorno guadagnando 15,49 € l'ora. • Quanto guadagna in una settimana di 5 giorni lavorativi? • E quanto guadagna in un mese di lavoro?

✓ Alla mensa scolastica si consumano ogni giorno 8 kg di pasta per 80 bambini della scuola. • Quanti chili di pasta si consumerebbero se i bambini fossero 120?

✓ La mamma di Carlo ha comperato un televisore che costava 955 € e ha ottenuto uno sconto di 129 €. Paga l'intera somma in 20 rate.

• A quanto ammonta ogni rata?



✓ Da un casello dell'autostrada del Sole passano in media 175 veicoli ogni ora. • Se ogni macchina paga in media un pedaggio di 0,83 €, quanto incasserà il casellante dopo 7 ore?