



SCHEDA DI LAVORO ①

FACILE

Vero o falso?

 Indica con V le frasi *vere*, con F le frasi *false*, con NS le frasi di cui non puoi dire se sono vere o false.

- | | | | |
|----------------------------------|--------------------------|------------------------------------|--------------------------|
| ◆ Il limone è un frutto. | <input type="checkbox"/> | Vedere film al cinema è noioso. | <input type="checkbox"/> |
| ◆ Il numero 20 è multiplo di 4. | <input type="checkbox"/> | Il mare è formato da acqua dolce. | <input type="checkbox"/> |
| ◆ Tutti i gatti sono aggressivi. | <input type="checkbox"/> | I mesi dell'anno sono cinque. | <input type="checkbox"/> |
| ◆ Le note musicali sono 7. | <input type="checkbox"/> | Il numero 11 è dispari. | <input type="checkbox"/> |
| ◆ Il triangolo ha 3 lati. | <input type="checkbox"/> | Il nuoto è uno sport affascinante. | <input type="checkbox"/> |
| ◆ Palermo si trova in Sicilia. | <input type="checkbox"/> | Il Sole tramonta ogni giorno. | <input type="checkbox"/> |
| ◆ Le fragole sono buone. | <input type="checkbox"/> | I libri di avventura sono belli. | <input type="checkbox"/> |

 Completa le frasi rendendole *vere*.

- ▶ Io ho anni.
- ▶ I miei genitori si chiamano e
- ▶ Il mio nome è
- ▶ Nel mio zaino ci sono libri.
- ▶ La mia classe è formata da alunni.
- ▶ Nel mio astuccio ci sono penne.
- ▶ Nella mia classe ci sono bambine e bambini.
- ▶ Il mio compagno di banco si chiama

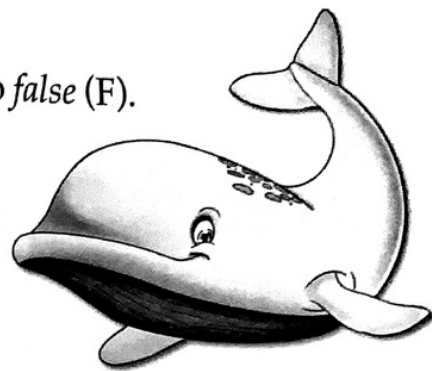
Nome


Scambi tra vero e falso

 Indica con le crocette se le affermazioni sono *vere* (V) o *false* (F).

La balena vive nel mare. V F

La tigre è un felino. V F



 Adesso aggiungi il connettivo *non* e scopri cosa succede: le affermazioni sono ancora *vere*?

La balena vive nel mare. V F


La tigre è un felino. V F

 Indica con le crocette se le affermazioni sono *vere* (V) o *false* (F).

Il pulcino è il figlio della balena. V F

Il cane è un pesce oceanico. V F



 Adesso aggiungi il connettivo *non* e scopri cosa succede: le affermazioni sono ancora *false*?

Il pulcino è il figlio della balena. V F

Il cane è un pesce oceanico. V F

 Completa la frase.



Una frase vera, con il connettivo **non**, diventa Una frase
, con il connettivo **non**, diventa vera.

Nome Classe

SCHEDA DI LAVORO 9

FACILE

Certo, probabile o impossibile?

  Indica, con la lettera C, gli eventi *certi*; con la lettera I, gli eventi *impossibili*; con la lettera P tutti gli eventi *probabili*.

Il sole spunta all'alba.

L'anno prossimo andrò a Parigi.

Lo spettacolo avrà un gran successo.

All'estate segue l'autunno.

Al giorno segue la notte.

L'anno prossimo l'albero darà buoni frutti.

L'uomo può vivere senza nutrirsi.

La Juve vincerà lo scudetto.


Dopo il venerdì viene il sabato.

Domenica sarà una bella giornata.

Sabato andrò al mare.

Il fuoco non produce calore.

L'uomo può vivere senza bere.



Nome Classe

SCHEDA DI LAVORO (10) MEDIA

Faccio colazione con...



Leggi i risultati dell'indagine *Faccio colazione con...* Poi regISTRALI sul gra-
fico chiamato *istogramma*, dove ogni mattoncino corrisponde a un bambino.

In una scuola sono stati intervistati 22 bambini, per scoprire cosa mangiano a colazione. Si sono ottenuti i seguenti dati:

- ◆ 5 bambini fanno colazione con yogurt
- ◆ 8 bambini fanno colazione con biscotti
- ◆ 2 bambini fanno colazione con la spremuta.

BISCOTTI	SPREMTA	YOGURT



Inventa tre simboli e completa l'*ideogramma* per registrare i dati dell'indagine
Faccio colazione con...

Nome Classe

SCHEDA DI LAVORO (11)

MEDIA

Le letture preferite

Leggi e osserva il grafico.

In un campeggio, frequentato da un gruppo di 230 ragazzi, viene svolta una indagine sulla lettura. Il grafico ne descrive il risultato. Fai attenzione: devi considerare che ogni mattoncino corrisponde a 10 ragazzi!

LIBRI DI AVVENTURE	LIBRI DI FIABE	FUMETTI

Completa.

• Ogni mattoncino rappresenta casi. Perciò possiamo dire che ragazzi leggono libri di avventure, mentre soltanto 40 ragazzi amano leggere Ben ragazzi, infine, preferiscono leggere fumetti, in più dei ragazzi che amano i libri di avventura.

Nome Classe

SCHEDA DI LAVORO 12

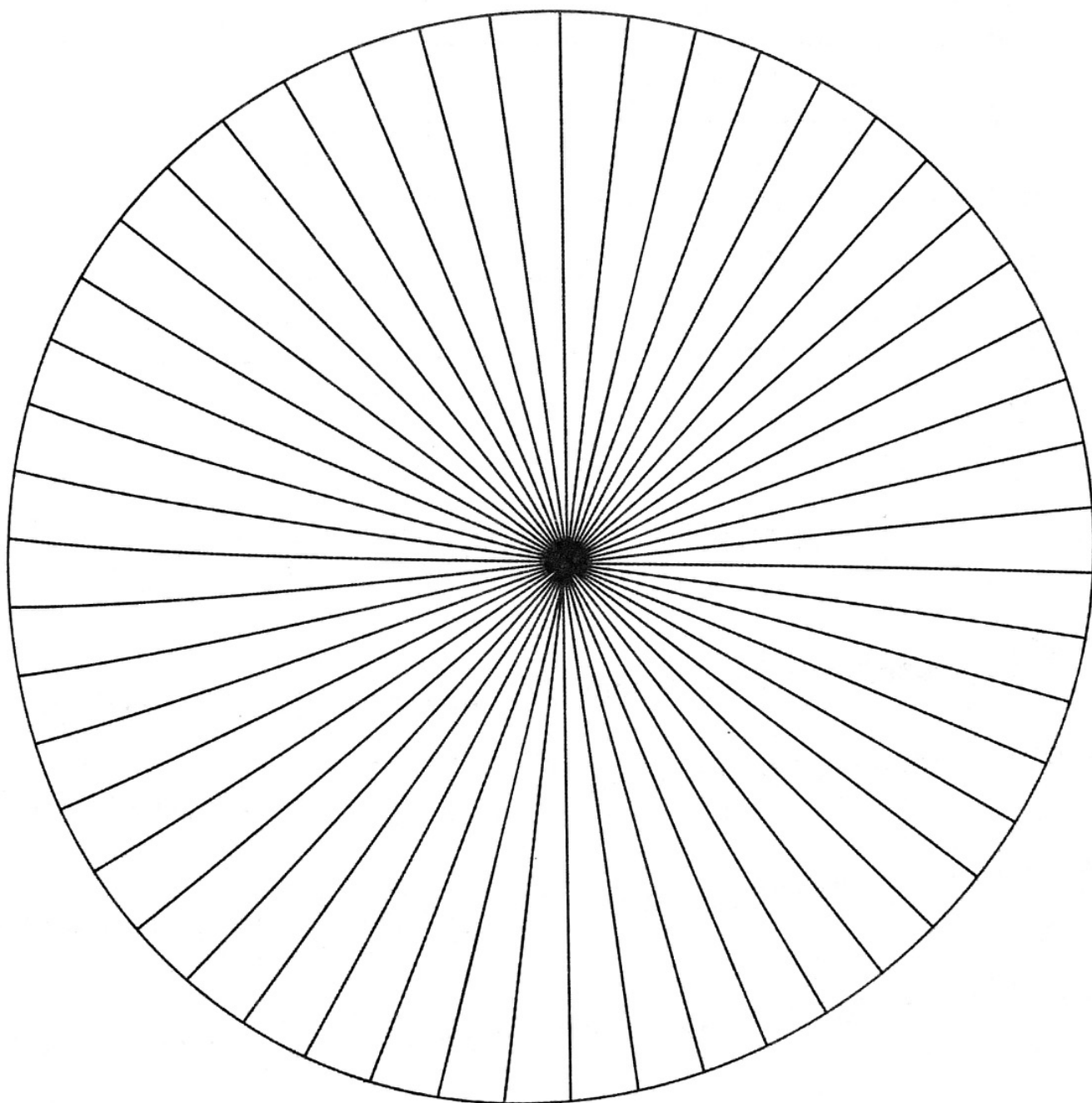
MEDIA

Alunni sportivi



Leggi il seguente testo e prova a rappresentare i dati sull'aerogramma.


Su 50 alunni di una scuola, 15 giocano a basket, 9 praticano il nuoto, 22 giocano a calcio e 4 praticano il pattinaggio.

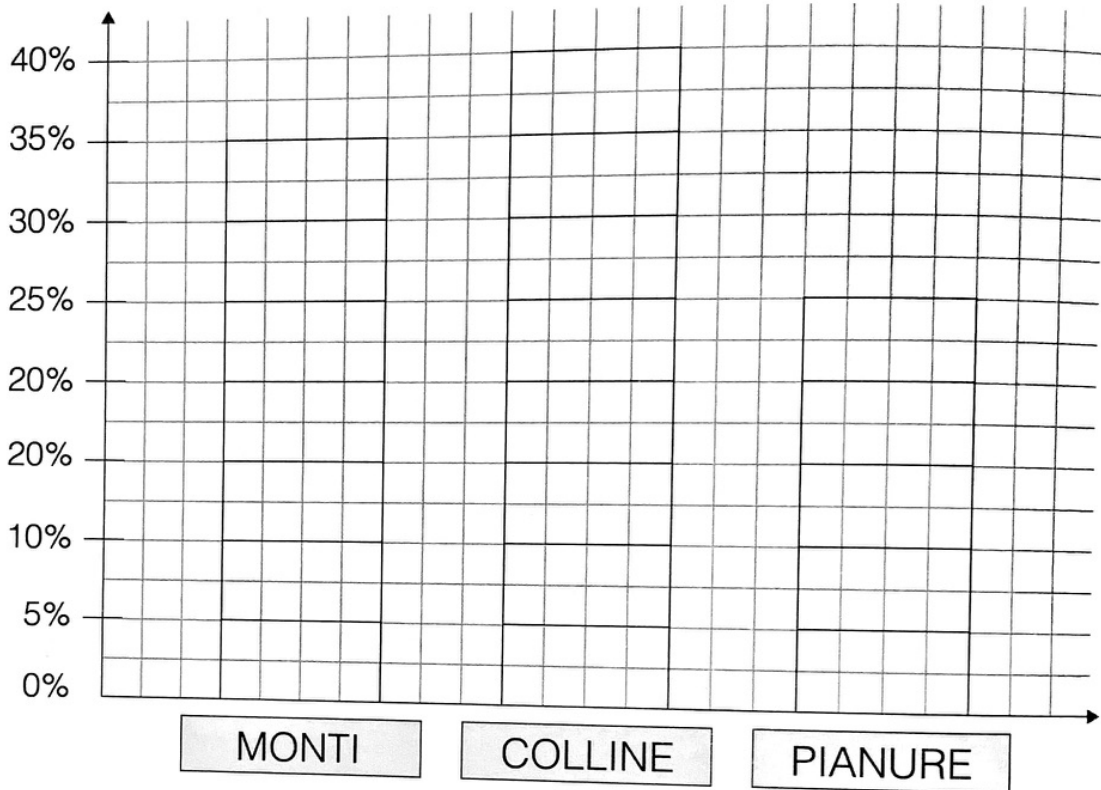



Qual è lo sport più praticato? Qual è quello meno praticato? Parlane con la tua insegnante.

SCHEMA DI LAVORO (13) MEDIA

Il territorio italiano in percentuale

 Osserva il grafico, che riporta in percentuale la struttura fisica del territorio italiano.




 Per ciascun tipo di territorio indica, con una crocetta, la percentuale esatta.

◆ Il territorio montuoso rappresenta il 35% 40% 25% del territorio italiano.

◆ Il territorio collinare rappresenta il 35% 40% 25% del territorio italiano.

◆ Il territorio pianeggiante rappresenta il 35% 40% 25% del territorio italiano.

 Colora di *marrone* la colonna che rappresenta il territorio montuoso, di *verde scuro* la colonna delle colline e di *verde chiaro* la colonna delle pianure.

Nome

Classe