

I PROBLEMI

LEGGI CON ATTENZIONE POI ESEGUI.

Con me Crescere

Risolve i problemi...

Pietro ha incollato 30 figurine nel suo album.
L'album contiene 150 figurine.
Quante figurine mancano a Pietro per completare l'album?



Risposta:.....

Anna ha raccolto 4 mazzi di fiori freschi.
Ogni mazzo di fiori è composto da 12 margherite.
Quanti fiori ci sono in tutto?



Risposta:.....



Per ogni problema, esegui l'operazione che ti permette di risolverlo e scrivi la risposta. Ricordati di colorare i disegni!

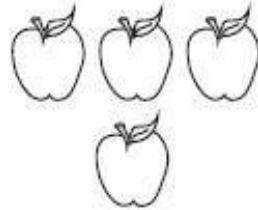


Una storia ... matematica




Un bambino di nome Mario è molto goloso di mele. Un giorno si accorge di averle finite, così, mangiando l'ultima, prende il cestino e va nel frutteto del nonno per raccoglierne altre.

Dal primo albero raccoglie alcune mele.



Poi pensa che sono poche, così dal secondo albero ne raccoglie delle altre.



Ora il cestino è pieno. Quante mele ha raccolto



Che operazione matematica hai fatto? Scrivila.



Problemi di...

LEGGI E COMPLETA.

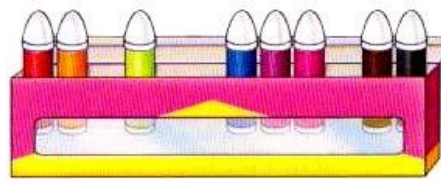


CON LE PAROLE: IL TESTO.

I COLORI DI MARCO

Marco ha una scatola con 12 pennarelli. Per colorare toglie 4 pennarelli dalla scatola. Quanti pennarelli sono rimasti nella scatola?

IL DISEGNO.



I DATI.

PENNARELLI NELLA SCATOLA.

PENNARELLI USATI PER COLORARE.

PENNARELLI RIMASTI.

CON I NUMERI: L'OPERAZIONE.

$$12 - 4 = \dots\dots$$

RISPOSTA. I PENNARELLI RIMASTI SONO

LE MENTINE



★ Davide ha una scatola con 10 mentine. Ne mangia alcune e si accorge che gliene sono rimaste 4. Quante mentine ha mangiato Davide?

FAI TU IL DISEGNO.



DATI.

MENTINE NELLA SCATOLA.

MENTINE RIMASTE.

MENTINE MANGIATE.

OPERAZIONE.

$$\dots\dots\dots = \dots\dots$$

RISPOSTA. LE MENTINE MANGIATE SONO

ALUNNO _____ DATA _____ CLASSE _____
lamaestraenza.it