


29 MAGGIO, VENERDÌ

ESEGUI SUL LIBRO SOTTILE A PAGINA 57 GLI ESERCIZI N° 1 E N°2

AGGIUNGERE E TOGLIERE


NUMERI

1 OSSERVA I DISEGNI E COMPLETA I TESTI.




IN CLASSE CI SONO _____ BAMBINI.

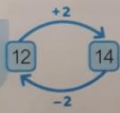
ARRIVANO 2 BAMBINI.
ORA CI SONO _____ BAMBINI.



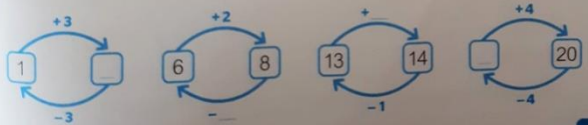
I BAMBINI ESCONO.
ORA IN CLASSE CI SONO DI NUOVO _____ BAMBINI.



CON L'ADDIZIONE AGGIUNGI E CON LA SOTTRAZIONE TOGLI. L'ADDIZIONE E LA SOTTRAZIONE SONO OPERAZIONI INVERSE, CIOÈ CONTRARIE.



2 SCRIVI I NUMERI MANCANTI.



ESEGUI SUL LIBRO SOTTILE A PAGINA 61 GLI ESERCIZI N° 1 E N°2


QUALE OPERAZIONE?

NUMERI

LEGGI IL TESTO, POI INDICA L'OPERAZIONE GIUSTA CON UNA X E SCRIVI IL RISULTATO.

1 Al luna park Rita gioca con le freccette. Al primo tiro realizza 10 punti, al secondo 7. Quanti punti realizza in tutto?

$10 - 7 = \underline{\quad}$ $10 + 7 = \underline{\quad}$



2 La famiglia Topolinos è composta da 13 topini. 7 sono maschi. Quante sono le femmine?

$13 - 7 = \underline{\quad}$ $13 + 7 = \underline{\quad}$

