

10 GIUGNO, MERCOLEDÌ

COMPLETA, SUL SUSSIDIARIO, LE PAGINE 125, 125

● SCRIVI LE POSIZIONI DELLE FIGURE E DISEGNA.

4		♥		
3			♦	
2	★			
1				
	A	B	C	D

TROVA...

- ★ → A, 2
- ♦ → __, __
- ♥ → __, __



DISEGNA...



- IN B, 2
- IN C, 1
- ▲ IN D, 3

● OSSERVA IL GRAFICO DEGLI STRUMENTI MUSICALI PREFERITI DAI BAMBINI DI CLASSE PRIMA E RISPONDI.

5			■	
4			■	
3			■	■
2		■	■	■
1		■	■	■

● QUAL È LO STRUMENTO MUSICALE PREFERITO?


● QUAL È LO STRUMENTO CHE PIACE DI MENO?

MISSIONE COMPIUTA • QUANDO UTILIZZI LE MISURE E I GRAFICI? QUALI FIGURE GEOMETRICHE CONOSCI?



● OSSERVA LE SCIARPE E COMPLETA.



LA SCIARPA ROSSA È PIÙ _____ DELLA SCIARPA BLU.

● DISEGNA IL PERCORSO DEL PIZZAIOLO.

2 ↑ 5 → 4 ↓ 2 →

● DISEGNA LE FIGURE.

- UN QUADRATO ROSA
- UN TRIANGOLO VERDE
- UN CERCHIO GIALLO
- UN RETTANGOLO AZZURRO