


COMPLETA LA PAGINA 100 SUL SUSSIDIARIO


NUMERI

OPERAZIONI IN TABELLA


1 OSSERVA LA TABELLA E CERCHIA L'INCROCIO.

QUESTA È
UNA RIGA ■.
QUESTA È UNA
COLONNA ■.





ACCENDI LA MENTE
HAI MAI GIOCATO
A BATTAGLIA NAVALE?
SAI COME SI GIOCA?



2 IMPARA A USARE LE TABELLE E CALCOLA.
FAI ATTENZIONE ALLA FRECCIA E AL SEGNO.


↻ +	2	0	9
5	⁵⁺² 7	5	
4			
7			

↻ +	1	4	6
3			
11			
14			

↻ -	3	5	7
8	⁸⁻³ 5	3	
10			
15			

↻ -	2	6	10
12			
18			
20			

OSSERVA
IL SEGNO - E LA
FRECCIA: PUOI FARE
8 - 3 MA NON
3 - 8.



100 **CLASSE DINAMICA • LANCIO DELLA LEZIONE:** vedi la sezione OPERAZIONI FINO A 20 della Guida.