

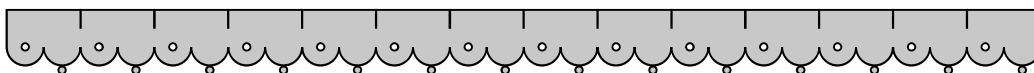
🌀 Leggi e rispondi.

Le sarte Rosa e Amelia devono bordare con un nastrino di pizzo due tovaglie uguali, una a testa.

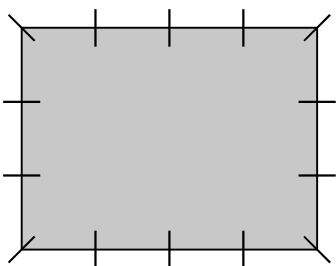
Rosa ha questo nastrino di pizzo:



Amelia ha questo nastrino di pizzo:



Questa è una tovaglia.



Riusciranno entrambe a bordare la loro tovaglia con il pizzo? Se sì, ne avvanzeranno? Spiega qui sotto il tuo ragionamento.

.....

.....

.....

.....

.....

.....


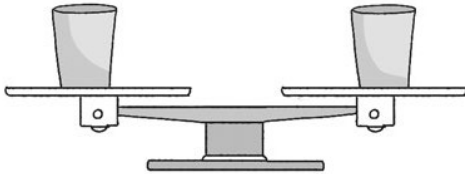
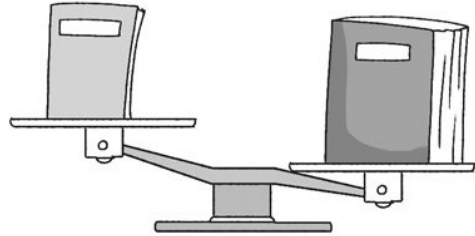
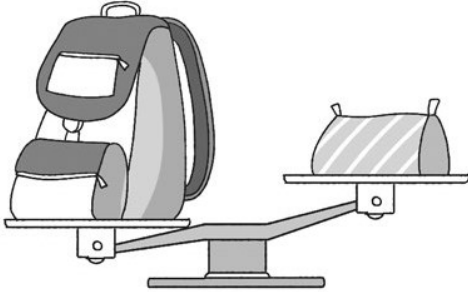
NOME:

COGNOME:

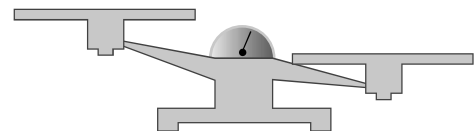
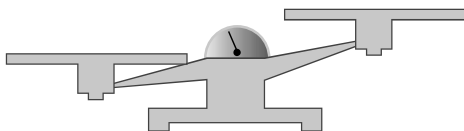

DATA:

Stimare, misurare, confrontare lunghezze e superfici di oggetti o forme diversi ponendo particolare attenzione alle differenze fra le due grandezze (perimetro e area).

🎯 Circonda l'oggetto più pesante, quando è possibile.



🎯 Collega ogni oggetto al piatto della bilancia opportuno.




NOME:

COGNOME:

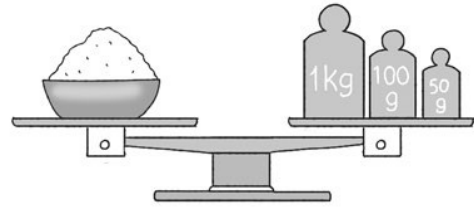
DATA:

Stimare, misurare, confrontare la capacità, la massa/il peso di oggetti o forme diversi.

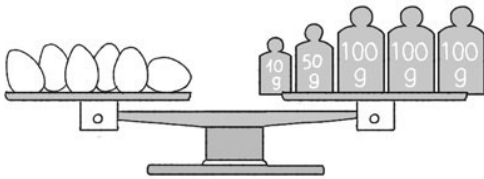
🎯 Trova il peso di ciascun oggetto.




Le fragole pesano




Lo zucchero pesa




Le uova pesano



Il neonato pesa



Il panettone pesa



Le caramelle pesano

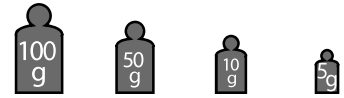
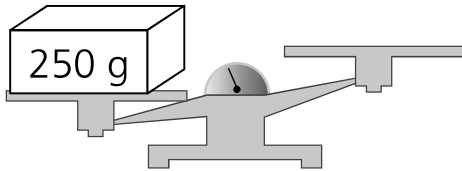
NOME:

COGNOME:

DATA:

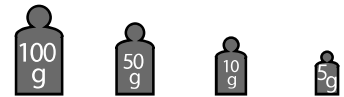
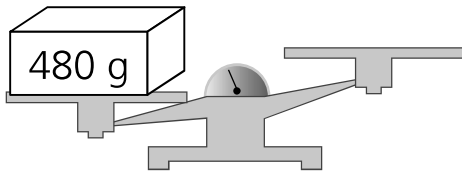
Stimare, misurare, confrontare la capacità, la massa/il peso di oggetti o forme diversi.

© Scrivi quali e quanti pesi devi mettere sui piatti vuoti delle bilance per raggiungere l'equilibrio.



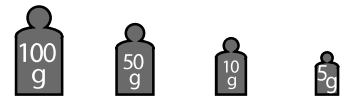
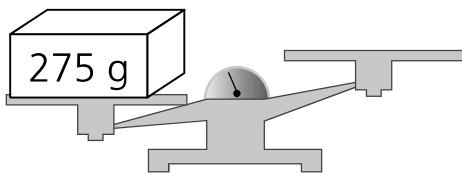
Quanti ne servono?

--	--	--	--



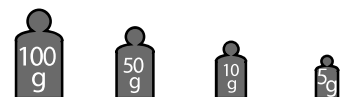
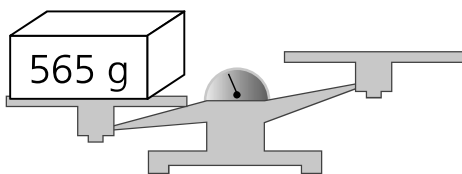
Quanti ne servono?

--	--	--	--



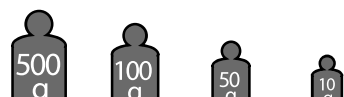
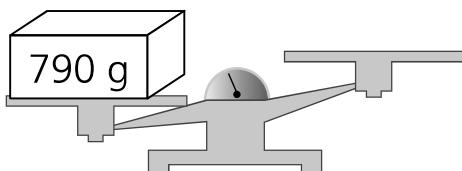
Quanti ne servono?

--	--	--	--



Quanti ne servono?

--	--	--	--



Quanti ne servono?

--	--	--	--

NOME:

COGNOME:


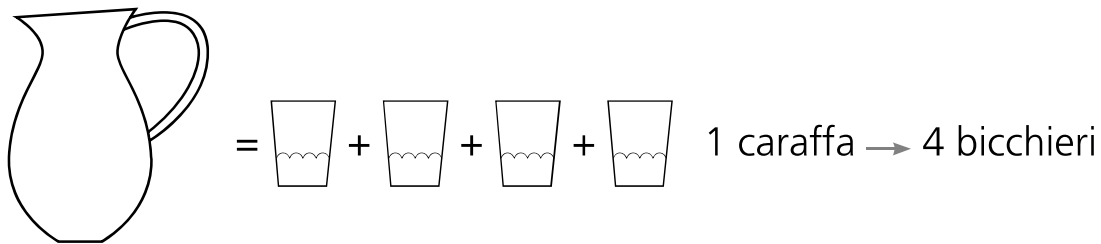
DATA:

Stimare, misurare, confrontare la capacità, la massa/il peso di oggetti o forme diversi.

🌀 Confronta la capacità delle varie bottiglie e numerale in ordine crescente dalla più capace alla meno capace.



🌀 Osserva il disegno, poi circonda i bicchieri che occorrono per riempire due caraffe.




NOME:

COGNOME:

DATA:

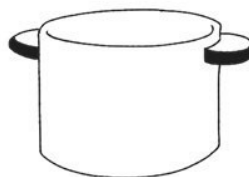
Stimare, misurare, confrontare la capacità, la massa/il peso di oggetti o forme diversi.

🌀 Leggi, poi rispondi alla domanda disegnando la risposta.


Con 4 bicchieri  si riempie una caraffa.



Con 2 caraffe si riempie una pentola.



Con 2 pentole si riempie un secchio.



🌀 Quanti bicchieri occorrono per riempire un secchio?

Per riempire un secchio occorrono bicchieri.

NOME:

COGNOME:

DATA:

Stimare, misurare, confrontare la capacità, la massa/il peso di oggetti o forme diversi.